



のこりはいくつ

しきとこたえをかきましょう(5)


ねん

くみ

なまえ

ちょうはなんびきのこりしましたか。しきをかいてこたえましょう。

はじめに4ひき。



2ひきとんでいくと

しき $4 - 2 = 2$ こたえ 2 ひき


はじめに5ひき。



3ひきとんでいくと

しき $5 - 3 = 2$ こたえ 2 ひき

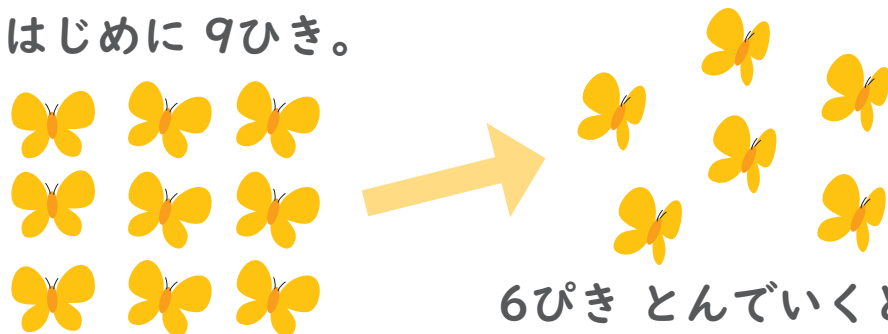
はじめに7ひき。



5ひきとんでいくと

しき $7 - 5 = 2$ こたえ 2 ひき

はじめに9ひき。



6ひきとんでいくと

しき $9 - 6 = 3$ こたえ 3 びき